

# Wurzelfunktionen

1. Gegeben ist die Funktion  $f(x) = \frac{x}{2}\sqrt{8-x}$

- a) Bestimmen Sie den größtmöglichen Definitionsbereich und untersuchen Sie die Funktion auf Nullstellen und Extrema. Ermitteln Sie  $\lim_{x \rightarrow -\infty} f(x)$  sowie für  $x \leq 8$   $\lim_{x \rightarrow 8} f'(x)$ .  
Skizzieren Sie den Graphen von  $f$ .
- b) Berechnen Sie den Inhalt der Fläche, die der Graph von  $f$  und die  $x$ -Achse im 1. Quadranten vollständig begrenzen.
- c) Rotiert die Fläche aus b) um die  $x$ -Achse, so entsteht ein Drehkörper.  
Berechnen Sie sein Volumen. Welchen Radius hat eine volumengleiche Kugel?
- d) Die Tangente im Punkt  $Q(4 | f(4))$  schneidet die Gerade  $y = -\frac{3}{2}x - 6$ .  
Berechnen Sie die Koordinaten des Schnittpunkts sowie den Schnittwinkel.

1. Gegeben ist die Funktion  $f(x) = \frac{x}{2}\sqrt{8-x}$

- Bestimmen Sie den größtmöglichen Definitionsbereich und untersuchen Sie die Funktion auf Nullstellen und Extrema. Ermitteln Sie  $\lim_{x \rightarrow -\infty} f(x)$  sowie für  $x \leq 8$   $\lim_{x \rightarrow 8} f'(x)$ . Skizzieren Sie den Graphen von  $f$ .
- Berechnen Sie den Inhalt der Fläche, die der Graph von  $f$  und die  $x$ -Achse im 1. Quadranten vollständig begrenzen.
- Rotiert die Fläche aus b) um die  $x$ -Achse, so entsteht ein Drehkörper. Berechnen Sie sein Volumen. Welchen Radius hat eine volumengleiche Kugel?
- Die Tangente im Punkt  $Q(4 | f(4))$  schneidet die Gerade  $y = -\frac{3}{2}x - 6$ . Berechnen Sie die Koordinaten des Schnittpunkts sowie den Schnittwinkel.

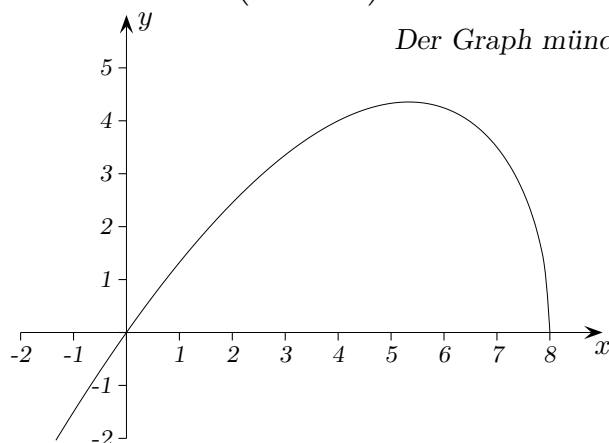
Lösungen:

1. a) max. Def.-Bereich:  $x \leq 8$ ,  $N_1(0 | 0)$ ,  $N_2(8 | 0)$

$$f'(x) = \frac{16-3x}{4\sqrt{8-x}} = 0 \quad \Rightarrow \quad x = \frac{16}{3}$$

Es liegt ein Vorzeichenwechsel von + nach - für  $f'$  an der Stelle  $x = \frac{16}{3}$  vor,  $\Rightarrow$

$$\text{Max} \left( \frac{16}{3} \mid \frac{8}{3}\sqrt{\frac{8}{3}} \right), \quad \lim_{x \rightarrow -\infty} f(x) = -\infty, \quad \lim_{x \rightarrow 8} f'(x) = -\infty$$



Der Graph mündet orthogonal zur  $x$ -Achse in den Punkt  $N_2(8 | 0)$  ein.

$$\begin{aligned} \text{b) } \int f(x) dx &= \frac{1}{2} \int x \sqrt{8-x} dx = \frac{1}{2} \int (8-u) \sqrt{u} (-1) du \quad \text{mit } u = 8-x \\ &= \frac{1}{2} \int (u^{\frac{3}{2}} - 8u^{\frac{1}{2}}) du = \frac{1}{2} \left( \frac{2}{5} u^{\frac{5}{2}} - \frac{16}{3} u^{\frac{3}{2}} \right) \end{aligned}$$

$$A = \frac{1}{2} \left[ \frac{2}{5} (8-x)^{\frac{5}{2}} - \frac{16}{3} (8-x)^{\frac{3}{2}} \right]_0^8 = \frac{8}{3} \cdot 8^{\frac{3}{2}} - \frac{1}{5} \cdot 8^{\frac{5}{2}} = 24,136 \text{ FE}$$

$$\text{c) } V = \pi \cdot \int_0^8 (f(x))^2 dx = \dots = \frac{256}{3} \pi, \quad V_{\text{Kugel}} = \frac{4}{3} \pi r^3 = \frac{256}{3} \pi \quad \Rightarrow \quad r = 4$$

$$\text{d) } \text{Tangentengleichung } y = \frac{1}{2}x + 2, \quad \text{Schnittpunkt } S(-4 | 0)$$

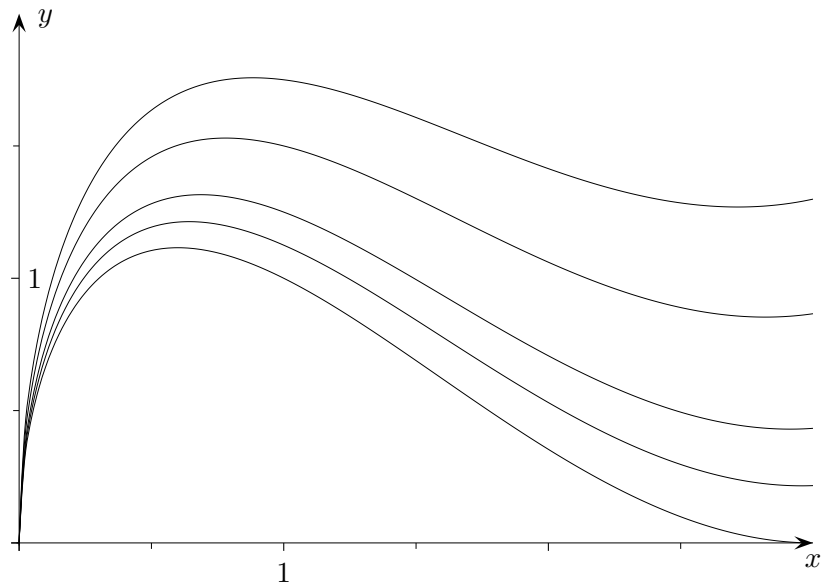
$$\text{Schnittwinkel } m_1 = \frac{1}{2} = \tan \alpha \quad \Rightarrow \quad \alpha = 26,6^\circ, \quad m_2 = -\frac{3}{2} = \tan \beta \quad \Rightarrow \quad \beta = 123,7^\circ$$

$$\overline{\varphi} = \beta - \alpha = 97,1^\circ, \quad \text{Schnittwinkel der Geraden } \varphi = 180^\circ - \overline{\varphi} = 82,9^\circ$$

2. Für jedes  $t$  ( $t > 0$ ) ist die Funktion  $f_t(x) = \frac{1}{4}\sqrt{x}((x-3)^2 + t)$  gegeben.

a) Zeigen Sie, dass gilt:  $f'_t(x) = \frac{5x^2 - 18x + 9 + t}{8\sqrt{x}}$

b) Ordnen Sie den eingezeichneten Graphen von  $f_t$  die Parameter  $t = 0$ ,  $t = 1$  und  $t = 2$  zu.



c) An welchen Stellen hat  $f_0$  eine waagerechte Tangente?

d) Geben Sie eine Stammfunktion von  $f_t$  an.

Ein Graph von  $f_t$  soll zur Modellierung einer zur  $x$ -Achse rotationssymmetrischen Vase dienen, Definitionsbereich  $\mathbb{D} = [0; 3]$ ,  $LE$  1 dm.

e) Wie groß ist das  $t$  zu wählen, damit der Öffnungskreisumfang der Vase 2 dm beträgt?

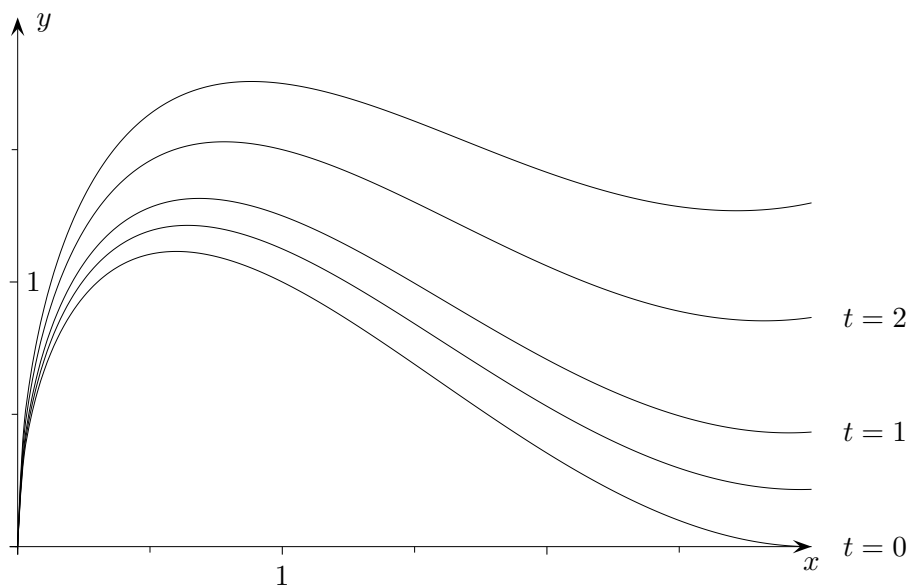
f) Welches Volumen hat die zu  $f_{0,74}$  gehörende Vase?

g) Die zu  $f_{0,74}$  gehörende Vase soll mit zwei Zierringen gleichen Umfangs in unterschiedlichen Höhen versehen werden. Geben Sie hierzu eine Möglichkeit an.

2. Für jedes  $t$  ( $t > 0$ ) ist die Funktion  $f_t(x) = \frac{1}{4}\sqrt{x}((x-3)^2 + t)$  gegeben.

a) Zeigen Sie, dass gilt:  $f'_t(x) = \frac{5x^2 - 18x + 9 + t}{8\sqrt{x}}$

b) Ordnen Sie den eingezeichneten Graphen von  $f_t$  die Parameter  $t = 0$ ,  $t = 1$  und  $t = 2$  zu.



c) An welchen Stellen hat  $f_0$  eine waagerechte Tangente?  $x_1 = 3, x_2 = \frac{3}{5}$

d) Geben Sie eine Stammfunktion von  $f_t$  an.  $\int f_t(x) dx = \sqrt{x^3} \left( \frac{1}{14}x^2 - \frac{3}{5}x + \frac{3}{2} + \frac{1}{6}t \right) + C$

Ein Graph von  $f_t$  soll zur Modellierung einer zur  $x$ -Achse rotationssymmetrischen Vase dienen, Definitionsbereich  $\mathbb{D} = [0; 3]$ , LE 1 dm.

e) Wie groß ist das  $t$  zu wählen, damit der Öffnungskreisumfang der Vase 2 dm beträgt?  $t = \frac{4\sqrt{3}}{3\pi} = 0,735$

f) Welches Volumen hat die zu  $f_{0,74}$  gehörende Vase?  $7,217 \text{ dm}^3$

g) Die zu  $f_{0,74}$  gehörende Vase soll mit zwei Zierringen gleichen Umfangs in unterschiedlichen Höhen versehen werden. Geben Sie hierzu eine Möglichkeit an.

Hierzu ist der Graph von  $f_{0,74}$  mit einer Parallelen zur  $x$ -Achse zu schneiden.