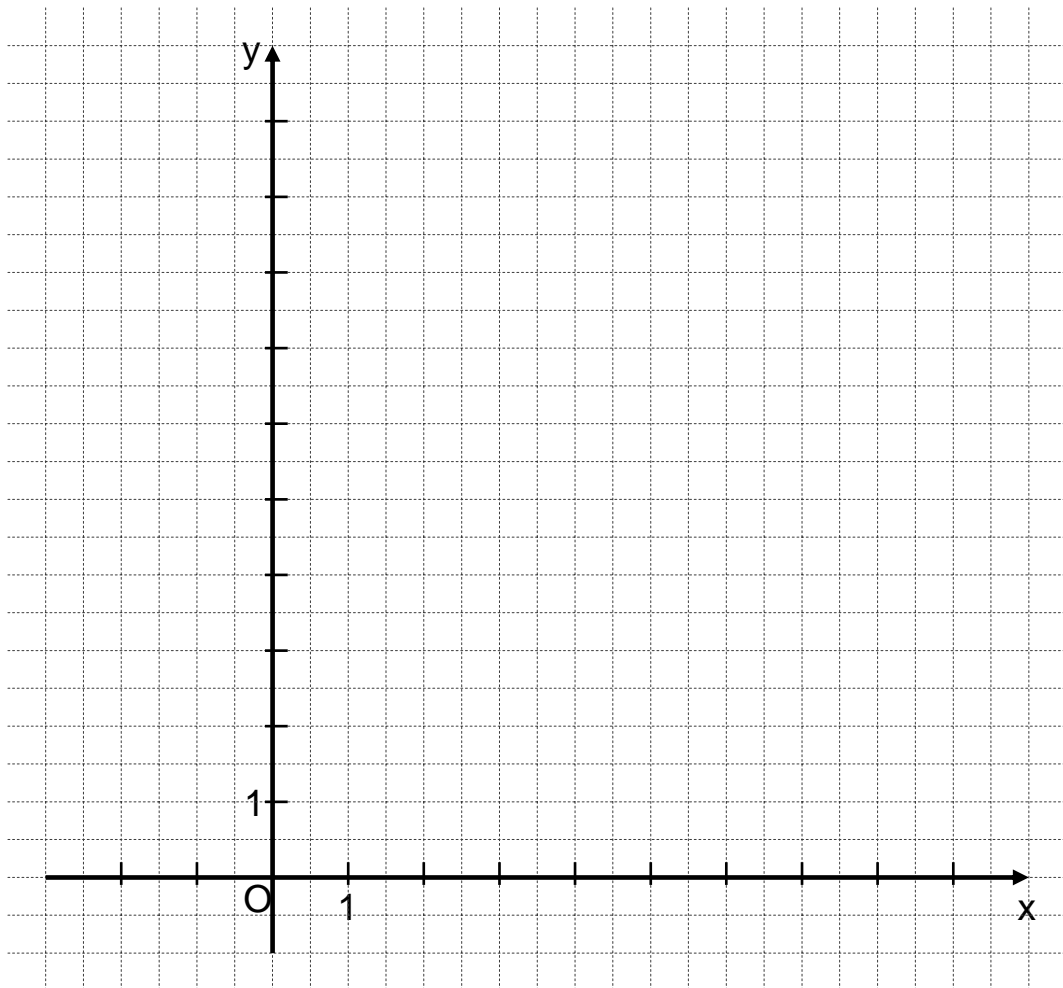


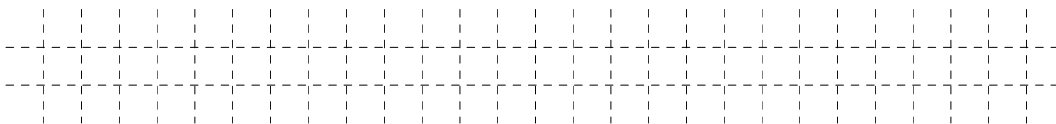
A 2.0 Die Pfeile $\vec{OP}_n(\varphi) = \begin{pmatrix} 4 + 4 \cdot \sin \varphi \\ 8 \cdot \cos^2 \varphi \end{pmatrix}$ und $\vec{OR} = \begin{pmatrix} -1 \\ 4 \end{pmatrix}$ mit $O(0|0)$ spannen für $\varphi \in [0^\circ; 90^\circ]$ Parallelogramme OP_nQ_nR auf.



A 2.1 Berechnen Sie die Koordinaten des Pfeils \vec{OP}_1 für $\varphi = 30^\circ$ und des Pfeils \vec{OP}_2 für $\varphi = 90^\circ$.

Zeichnen Sie sodann die Parallelogramme OP_1Q_1R und OP_2Q_2R in das Koordinatensystem zu 2.0 ein.

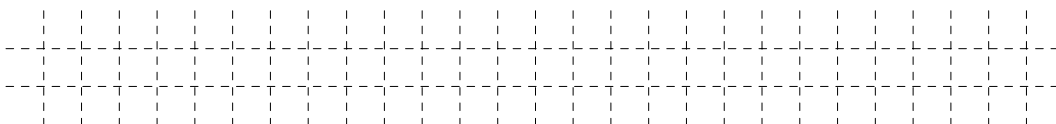
2 P




A 2.2 Der Pfeil \vec{OP}_3 hat die x-Koordinate 5.

Berechnen Sie das zugehörige Winkelmaß φ . Runden Sie auf zwei Stellen nach dem Komma.


2 P






A 2.3 Bestimmen Sie rechnerisch die Koordinaten der Punkte Q_n in Abhängigkeit von φ .
 [Ergebnis: $Q_n(3 + 4 \cdot \sin \varphi | 4 + 8 \cdot \cos^2 \varphi)$]

1 P



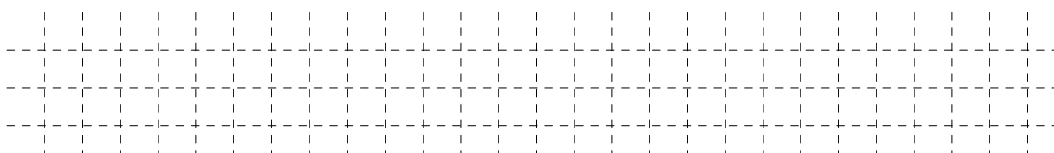
A 2.4 Zeigen Sie rechnerisch, dass die Parabel p mit der Gleichung $y = -\frac{1}{2} \cdot (x - 3)^2 + 12$
 ($\mathbb{G} = \mathbb{R} \times \mathbb{R}$) der Trägergraph der Punkte Q_n ist.

3 P



A 2.5 Begründen Sie, dass der Trägergraph der Punkte P_n ebenfalls eine Parabel ist.

1 P



A 3.0 Eine Firma stellt Stahltanks her. Als Axial-
 schnitte ergeben sich achsensymmetrische
 Fünfecke $AB_nC_nD_nE$. Die Eckpunkte C_n
 und der Mittelpunkt F der Seite $[AE]$ lie-
 gen auf der Symmetrieachse.

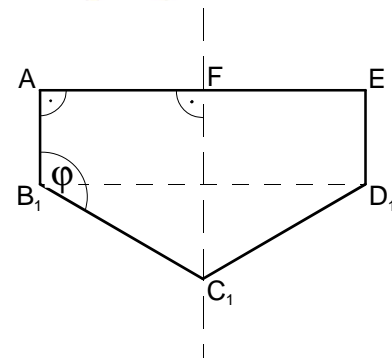
Es gilt:

$$\overline{AE} = 2,00 \text{ m}; \quad \overline{FC_n} = 2 \cdot \overline{AB_n};$$

$$\sphericalangle B_nAE = 90^\circ; \quad \sphericalangle AFC_n = 90^\circ.$$

Die Winkel C_nB_nA haben das Maß φ mit
 $\varphi \in [104,04^\circ; 160,02^\circ]$.


Die nebenstehende Skizze zeigt das Fünf-
 eck $AB_1C_1D_1E$ für $\varphi = 120^\circ$.



A 3.1 Berechnen Sie das Volumen V der Stahltanks in Abhängigkeit von φ .


[Ergebnis: $V(\varphi) = \frac{4}{3} \cdot \pi \cdot \tan(\varphi - 90^\circ) \text{ m}^3$]

3 P



A 3.2 Der am häufigsten verkaufte Stahltank hat ein Volumen von 5000 Litern.
 Ermitteln Sie durch Rechnung das zugehörige Winkelmaß φ . Runden Sie auf zwei
 Stellen nach dem Komma.

2 P





Mathematik I

Aufgabe B 1

Haupttermin

- B 1.0 Die Raute ABCD mit den Diagonalen [AC] und [BD] ist die Grundfläche eines geraden Prismas ABCDEFGH. Der Punkt E liegt senkrecht über dem Punkt A. Der Schnittpunkt der beiden Diagonalen der Raute ABCD ist der Punkt T. Der Schnittpunkt der Diagonalen [EG] und [FH] der Raute EFGH ist der Punkt M.
Es gilt: $\overline{AC} = 10 \text{ cm}$; $\overline{BD} = 6 \text{ cm}$; $\overline{AE} = 7 \text{ cm}$.

Runden Sie im Folgenden auf zwei Stellen nach dem Komma.

- B 1.1 Zeichnen Sie das Schrägbild des Prismas ABCDEFGH, wobei die Strecke [AC] auf der Schrägbildachse und der Punkt A links vom Punkt C liegen soll.

Für die Zeichnung gilt: $q = \frac{1}{2}$; $\omega = 45^\circ$.

Berechnen Sie sodann das Maß des Winkels CAM.

[Ergebnis: $\sphericalangle \text{CAM} = 54,46^\circ$]

3 P

- B 1.2 Punkte P_n liegen auf der Strecke [AM]. Die Winkel P_nCA haben das Maß φ mit $\varphi \in]0^\circ; 54,46^\circ]$. Die Punkte P_n sind zusammen mit den Punkten B und D die Eckpunkte von gleichschenkligen Dreiecken BDP_n mit der gemeinsamen Basis [BD]. Die Winkel BP_nD haben das Maß ε .

Zeichnen Sie das Dreieck BDP_1 für $\varphi = 30^\circ$ in das Schrägbild zu 1.1 ein.

Für alle Dreiecke BDP_n gilt: $\varepsilon \in [46,40^\circ; 72,79^\circ]$.

Begründen Sie die obere Intervallgrenze.

3 P

- B 1.3 Das Dreieck BDP_2 ist gleichseitig.
Ermitteln Sie rechnerisch die Länge der Strecke [AP₂].

[Teilergebnis: $\overline{TP_2} = 5,20 \text{ cm}$]

3 P

- B 1.4 Zeigen Sie durch Rechnung, dass für die Länge der Strecken [CP_n] in Abhängigkeit von φ gilt:

$$\overline{CP_n}(\varphi) = \frac{8,14}{\sin(54,46^\circ + \varphi)} \text{ cm.}$$

2 P

- B 1.5 Die Punkte P_n sind die Spitzen von Pyramiden $ABCDP_n$ mit den Höhen [P_nK_n], deren Fußpunkte K_n auf der Strecke [AT] liegen.

Zeichnen Sie die Pyramide $ABCDP_1$ und ihre Höhe [P₁K₁] in das Schrägbild zu 1.1 ein und ermitteln Sie sodann rechnerisch das Volumen V der Pyramiden $ABCDP_n$ in Abhängigkeit von φ .

$$[\text{Ergebnis: } V(\varphi) = \frac{81,4 \cdot \sin \varphi}{\sin(54,46^\circ + \varphi)} \text{ cm}^3]$$

3 P

- B 1.6 Das Volumen der Pyramide $ABCDP_3$ beträgt ein Viertel des Volumens des Prismas ABCDEFGH.

Berechnen Sie das zugehörige Winkelmaß φ .

3 P

Bitte wenden!



Mathematik I

Aufgabe B 2

Haupttermin

- B 2.0 Gegeben ist die Funktion f_1 mit der Gleichung $y = 1,5^{x+2} - 4$ mit $G = \mathbb{R} \times \mathbb{R}$.
- B 2.1 Geben Sie die Definitionsmenge und die Wertemenge der Funktion f_1 an und zeichnen Sie den Graphen zu f_1 für $x \in [-7; 2]$ in ein Koordinatensystem.
Für die Zeichnung: Längeneinheit 1 cm; $-8 \leq x \leq 4$; $-6 \leq y \leq 4$. 2 P
- B 2.2 Der Graph der Funktion f_1 wird durch orthogonale Affinität mit der x-Achse als Affinitätsachse und dem Affinitätsmaßstab k ($k \in \mathbb{R} \setminus \{0\}$) sowie anschließende Parallelverschiebung mit dem Vektor $\vec{v} = \begin{pmatrix} 2 \\ -13 \end{pmatrix}$ auf den Graphen der Funktion f_2 mit der Gleichung $y = -6 \cdot 1,5^{x-1} + 3$ abgebildet ($G = \mathbb{R} \times \mathbb{R}$).
Zeichnen Sie den Graphen zu f_2 in das Koordinatensystem zu 2.1 ein und ermitteln Sie durch Rechnung den Affinitätsmaßstab k . 5 P
- B 2.3 Punkte $A_n(x | -6 \cdot 1,5^{x-1} + 3)$ auf dem Graphen zu f_2 und Punkte $B_n(x | 1,5^{x+2} - 4)$ auf dem Graphen zu f_1 haben dieselbe Abszisse x und sind für $x < 0,28$ zusammen mit Punkten C_n und D_n die Eckpunkte von Trapezen $A_n B_n C_n D_n$. Die Punkte D_n liegen auf dem Graphen zu f_2 . Ihre x-Koordinate ist stets um 2 größer als die Abszisse x der Punkte A_n . Es gilt: $A_n B_n \parallel D_n C_n$ und $\overline{D_n C_n} = 3 \text{ LE}$.
Zeichnen Sie das Trapez $A_1 B_1 C_1 D_1$ für $x = -7$ und das Trapez $A_2 B_2 C_2 D_2$ für $x = -2,5$ in das Koordinatensystem zu 2.1 ein. 2 P
- B 2.4 Zeigen Sie durch Rechnung, dass für den Flächeninhalt A der Trapeze $A_n B_n C_n D_n$ in Abhängigkeit von der Abszisse x der Punkte A_n gilt:
 $A(x) = (-6,25 \cdot 1,5^x + 10) \text{ FE}$. 2 P
- B 2.5 Das Trapez $A_3 B_3 C_3 D_3$ hat den Flächeninhalt 8 FE.
Berechnen Sie die x-Koordinate des Punktes D_3 . Runden Sie auf zwei Stellen nach dem Komma. 2 P
- B 2.6 Der Eckpunkt A_4 des Trapezes $A_4 B_4 C_4 D_4$ hat die x-Koordinate $-3,5$.
Zeichnen Sie das Trapez $A_4 B_4 C_4 D_4$ in das Koordinatensystem zu 2.1 ein.
Überprüfen Sie sodann rechnerisch, ob das Trapez $A_4 B_4 C_4 D_4$ gleichschenkelig ist.
Runden Sie auf zwei Stellen nach dem Komma. 4 P