













2 Würfel werfen

| |  |  |  |  |  |  |
|---|---|---|---|---|---|---|
|  | | | | | | |
|  | | | | | | |
|  | | | | | | |
|  | | | | | | |
|  | | | | | | |
|  | | | | | | |

Wie groß ist die Wahrscheinlichkeit für eine Augensumme (Summe der beiden Würfergebnisse)

- a) 5
- b) 6
- c) kleiner als 5
- d) mindestens 5?